

Esame scritto di Elettromagnetismo del 17 Giugno 2014 - a.a. 2013-2014

proff. F. Lacava, F. Ricci, D. Trevese

Elettromagnetismo 10 o 12 crediti: esercizi 1,2,3 tempo 3 h e 30 min;

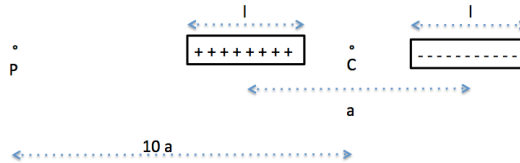
Recupero di un esonero: esercizi corrispondenti 1,2,3, tempo 1h e 20 min.

Esercizio 1

Due barrette sottili di lunghezza $l = 5.00 \text{ cm}$ sono allineate come in figura e sono cariche uniformemente rispettivamente con carica totale $q_a = 10.0 \text{ nC}$ e $q_b = -q_a$. I centri delle barrette sono distanti tra loro $a = 10.0 \text{ cm}$.

Si calcoli l'intensità, la direzione e il verso del campo elettrico generato dal sistema:

- nel punto C intermedio tra le due barrette,
- nel punto P , posto lungo la retta su cui giacciono le due barrette, distante $d = 10a$ dal centro C e disposto dal lato della barretta carica positivamente.
- Si confronti quest'ultimo risultato con quello ottenuto approssimando il sistema delle due barrette con un dipolo equivalente posto in C .



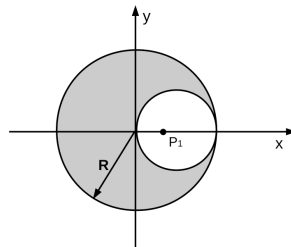
Esercizio 2

Un cilindro conduttore infinitamente lungo di raggio $R = 8.2 \text{ cm}$ e permeabilità magnetica relativa $\mu_r = 1$ ha una sezione, mostrata in figura, che presenta una cavità cilindrica infinitamente lunga. La cavità è centrata a distanza $R/2$ dall'asse ed ha raggio $R/2$. Nel conduttore scorre, parallelamente all'asse con verso uscente dal piano del foglio, una corrente uniformemente distribuita $I = 12 \text{ A}$.

- Calcolare la densità di corrente che scorre nel conduttore.
- Si dimostri che il campo di induzione magnetica all'interno della cavità è uniforme e se ne deduca il modulo, la direzione e il verso.

Successivamente viene posta una spira di raggio $R_s = 2.5 \text{ cm}$, centrata nel punto $P_1 \equiv (3 \text{ cm}, 0 \text{ cm})$, con asse parallelo all'asse del cilindro, in cui scorre in verso orario una corrente di 1.0 A .

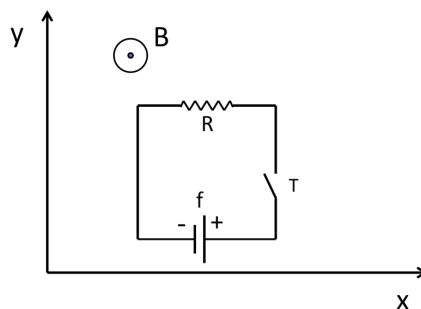
- Si determini il momento meccanico che agisce sulla spira.



Esercizio 3

Una spira quadrata di lato $l = 90 \text{ cm}$ e massa $m = 80 \text{ g}$, è inizialmente ferma, con i lati paralleli agli assi x e y , in un campo magnetico $\vec{B}(x) = (B_0 + \beta x)\hat{z}$ con $\beta = 2.5 \text{ T/m}$. Nella spira di resistenza $R = 8 \Omega$ è inserita una batteria di forza elettromotrice $f = 2 \text{ V}$ e un interruttore (vedi figura). Chiudendo l'interruttore nel circuito passa corrente e la spira inizia a muoversi. Trascurando l'autoinduzione della spira, si determini:

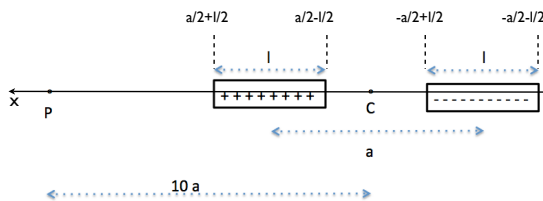
- l'equazione del moto della spira;
- l'andamento nel tempo della velocità della spira e se ne calcoli il valore asintotico;
- l'andamento nel tempo della corrente;
- il lavoro totale della batteria e lo si confronti con l'energia cinetica finale della spira.



Soluzioni

Esercizio 1

a)



Sia C l'origine del nostro sistema di riferimento ed indichiamo con x l'ascissa, con orientazione positiva nel verso che va da C a P . Per ovvie ragioni di simmetria, nei punti dell'asse x l'unica componente del campo elettrico diversa da zero è la componente E_x . Indicando con $\lambda = q/l$ la densità, le barrette hanno rispettivamente densità lineare di carica $\pm\lambda$ e il contributo al campo nel punto C , dovuto barretta con carica negativa è:

$$E_x^-(x=0) = -\frac{1}{4\pi\epsilon_0}\lambda \int_{-a/2-l/2}^{-a/2+l/2} \frac{dx'}{x'^2} = -\frac{1}{4\pi\epsilon_0}\lambda \left[-\frac{1}{x'} \right]_{-a/2-l/2}^{-a/2+l/2} = -\frac{\lambda}{2\pi\epsilon_0} \left[\frac{1}{a-l} - \frac{1}{a+l} \right]$$

In C l'altra barretta genera campo della stessa intensità $E_x^+(x=0) = E_x^-(x=0)$, quindi in totale avremo :

$$E_x(x=0) = -\frac{\lambda}{\pi\epsilon_0} \left[\frac{1}{a-l} - \frac{1}{a+l} \right] = -\frac{2q}{\pi\epsilon_0(a^2-l^2)} = -95.9 \text{ kV/m}$$

b)

In un punto generico dell'asse delle x con $x > a/2 + l/2$, la barretta con carica negativa genera un campo:

$$E_x^-(x) = -\frac{1}{4\pi\epsilon_0}\lambda \int_{-a/2-l/2}^{-a/2+l/2} \frac{dx'}{(x'-x)^2}$$

Posto $y = x' - x$, si ottiene:

$$E_x^-(x) = -\frac{1}{4\pi\epsilon_0}\lambda \int_{-x-a/2-l/2}^{-x-a/2+l/2} \frac{dy}{y^2} = -\frac{1}{4\pi\epsilon_0}\lambda \left[-\frac{1}{y} \right]_{-x-a/2-l/2}^{-x-a/2+l/2}$$

che per $x = 10a$ ci porta alla conclusione:

$$E_x^-(10a) = \frac{1}{4\pi\epsilon_0}\lambda \left[\frac{1}{-10a - a/2 + l/2} - \frac{1}{-10a - a/2 - l/2} \right] = -81.59 \text{ V/m}$$

Procedendo in modo analogo con l'altra sbarretta:

$$E_x^+(x) = \frac{1}{4\pi\epsilon_0}\lambda \int_{a/2-l/2}^{a/2+l/2} \frac{dx'}{(x'-x)^2}$$

da cui:

$$E_x^+(x) = \frac{1}{4\pi\epsilon_0}\lambda \int_{-x+a/2-l/2}^{-x+a/2+l/2} \frac{dy}{y^2} = \frac{1}{4\pi\epsilon_0}\lambda \left[-\frac{1}{y} \right]_{-x+a/2-l/2}^{-x+a/2+l/2} =$$

che calcolata in $x = 10a$

$$E_x^+(10a) = \frac{1}{4\pi\epsilon_0}\lambda \left[\frac{1}{-10a + a/2 - l/2} - \frac{1}{-10a + a/2 + l/2} \right] = 99.68 \text{ V/m}$$

In totale quindi:

$$E_x(x=10a) = E_x^-(10a) + E_x^+(10a) = 18.09 \text{ V/m}$$

c)

Approssimando il sistema delle barrette come un dipolo equivalente di modulo pari a

$$p = q a$$

il campo in $x = 10 a$ è:

$$E_x^{(dip)} = \frac{qa}{2\pi\epsilon_0(10a)^3} = 17.98 \text{ V/m}$$

Differisce quindi dal valore precedentemente calcolato

$$\frac{E_x - E_x^{(dip)}}{E_x} = 0.6\%$$

Esercizio 2

a)

La corrente è

$$I = J \left(\pi R^2 - \pi \frac{R^2}{4} \right) = J \pi R^2 \frac{3}{4}$$

da cui

$$J = \frac{4}{3} \frac{I}{\pi R^2} = 0.76 \text{ kA/m}^2$$

b)

Usando il principio di sovrapposizione, il campo di un cavo in cui scorre una densità di corrente J si può ricavare dal teorema di Ampère:

$$2\pi r B_1 = \mu_0 J \pi r^2$$

da cui

$$\mathbf{B}_1 = \frac{\mu_0 J}{2} \hat{\mathbf{z}} \times \mathbf{r}$$

Per la parte cava

$$\mathbf{B}_2 = -\frac{\mu_0 J}{2} \hat{\mathbf{z}} \times (\mathbf{r} - \mathbf{r}_0)$$

quindi

$$\mathbf{B} = \frac{\mu_0 J}{2} \hat{\mathbf{z}} \times \mathbf{r}_0$$

nel tratto cavo il campo di induzione magnetica è uniforme, diretto sull'asse y e vale

$$B = \frac{\mu_0 J R}{2} = 1.95 \cdot 10^{-5} T$$

Si può arrivare allo stesso risultato calcolando e sommando le componenti dei campi \mathbf{B}_1 e \mathbf{B}_2 . Infatti le componenti x e y di \mathbf{B}_1 sono:

$$B_1^x = -\frac{\mu_0 J r}{2} \sin \theta = -\frac{\mu_0 J r}{2} \frac{y}{r} = -\frac{\mu_0 J y}{2}$$

$$B_1^y = \frac{\mu_0 J r}{2} \cos \theta = \frac{\mu_0 J r}{2} \frac{x}{r} = \frac{\mu_0 J x}{2}$$

essendo θ l'angolo al centro. Analogamente si calcolano le componenti per \mathbf{B}_2 :

$$B_2^x = \frac{\mu_0 J y}{2}$$

$$B_2^y = \frac{\mu_0 J (x_0 - x)}{2}$$

essendo x_0 la distanza tra i centri dei due cilindri. Sommando le componenti, si ottiene:

$$B_T^x = 0$$

$$B_T^y = \frac{\mu_0 J x_0}{2} = \frac{\mu_0 J R}{4}$$

c)

Il momento magnetico della spira è

$$\mathbf{m} = I_s \pi R_s^2$$

In campo uniforme si ha

$$\mathbf{M} = \mathbf{m} \times \mathbf{B}$$

il cui valore è $M = 3.8 \cdot 10^{-8} N \cdot m$ in direzione x .

Esercizio 3

a)

Alla chiusura dell'interruttore nella spira passa corrente e sui lati paralleli all'asse y sono presenti due forze uguali ed opposte:

$$m \frac{dv}{dt} = ilB(x+l) - ilB(x) = il[(B_0 + \beta(x+l)) - (B_0 + \beta x)] = \beta l^2 i$$

b)

Il flusso di B concatenato con la spira è:

$$\Phi_B(x) = \int_x^{x+l} (B_0 + \beta x) l \, dx = B_0 l^2 + \frac{1}{2} \beta l^3 + \beta l^2 x$$

che produce una f.e.m. indotta:

$$f_i = - \frac{d\Phi}{dt} = -\beta l^2 v$$

l'equazione del circuito è:

$$f + f_i = Ri \quad f - \beta l^2 v = Ri$$

Si ha quindi il sistema di equazioni:

$$\begin{cases} m \frac{dv}{dt} = \beta l^2 i \\ f - \beta l^2 v = Ri \end{cases}$$

Ricavando la corrente dalla seconda equazione e sostituendo nella prima si trova l'equazione del moto:

$$m \frac{dv}{dt} = \beta l^2 \frac{f - \beta l^2 v}{R}$$

che integrata dà l'espressione della velocità:

$$v(t) = \frac{f}{\beta l^2} \left(1 - e^{-\frac{t}{\tau}}\right) \quad \text{con} \quad \tau = \frac{mR}{\beta^2 l^4} \quad \text{e velocità asintotica} \quad v(\infty) = \frac{f}{\beta l^2} = 0.99 \text{ m/s} .$$

c)

Ne segue che la corrente varia secondo l'espressione:

$$i(t) = \frac{f}{R} e^{-\frac{t}{\tau}}$$

d)

L'energia cinetica finale della spira è:

$$K = \frac{1}{2} m v^2 = \frac{1}{2} m \left(\frac{f}{\beta l^2} \right)^2 = 39 \text{ mJ} .$$

Il lavoro totale fatto dalla batteria è:

$$L_G = \int_0^\infty f i \, dt = \frac{f^2}{R} \int_0^\infty e^{-\frac{t}{\tau}} dt = \frac{f^2}{R} \tau = m \left(\frac{f}{\beta l^2} \right)^2 = 78 \text{ mJ} .$$

L'energia fornita dal generatore è il doppio dell'energia cinetica, la differenza, pari a quest'ultima, è dissipata in effetto Joule nella resistenza come è facile verificare dal calcolo diretto.