

RIFLESSIONE

RIFRAZIONE

RIFLESSIONE - RIFRAZIONE

● indice di rifrazione assoluto $n = \frac{c}{v} = \sqrt{\epsilon_r}$ ($\mu_r = 1$)

- formula di Clausius Mossotti $\frac{n^2 - 1}{n^2 + 2} = \frac{Ne^2}{3\epsilon_0 m} \sum_k \frac{f_k}{\omega_{0k}^2 - \omega^2 + i\gamma_k \omega}$

assorbimento: $n \in \mathbb{C}$

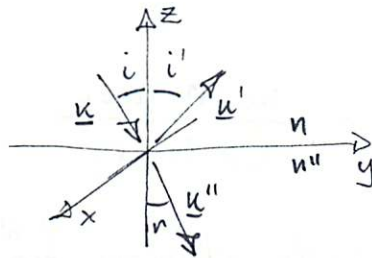
dispersione: $\frac{dn}{d\omega} \neq 0$

- conduttori

$$n^2 = 1 - \frac{Ne^2}{\epsilon_0 m \omega^2} \quad \omega \gg \frac{Ne^2}{m\sigma}$$

$$n^2 = -i \frac{\sigma}{\epsilon_0 \omega} \quad \omega \ll \max\left\{\frac{\sigma}{\epsilon_0}, \frac{Ne^2}{m\sigma}\right\}$$

* riflessione e rifrazione:
legge di Snell



$$\underline{k} \cdot \underline{x} - \omega t = \underline{k}' \cdot \underline{x} - \omega t = \underline{k}'' \cdot \underline{x} - \omega t$$

$$\omega t = 0 \quad \text{e} \quad z = 0$$

$$k_x x + k_y y = k'_x x + k'_y y = k''_x x + k''_y y$$

$$\begin{aligned} k^2 - k_z^2 &= k^2 \sin^2 i = k_x^2 + k_y^2 = k'^2 \sin^2 i' = \\ &= k''^2 \sin^2 r = k_x^2 + k_y^2 = k''^2 \sin^2 r \end{aligned}$$

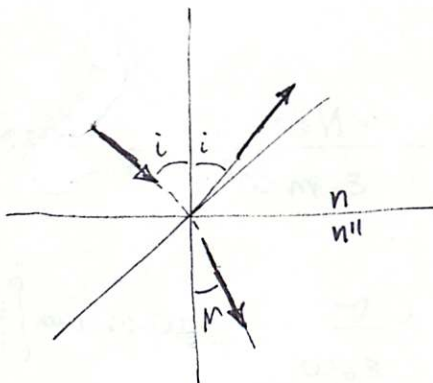
$$k = \frac{\omega}{v} = k' \quad \Rightarrow \quad \boxed{i = i'}$$

$$k \neq k'' = \frac{v''}{v} = \frac{c}{v} \cdot \frac{v''}{c} = \frac{n}{n''} \quad \Rightarrow \quad \boxed{n \sin i = n'' \sin r}$$

- angolo limite (riflessione totale)

$$r = \frac{\pi}{2} \quad \sin i = \frac{n''}{n} \quad (\text{possibile solo per } n'' < n!)$$

* Riflessione e Rifrazione: formule di Fresnel



$$\underline{E} = \underline{\pi} + \underline{\sigma}$$

$\underline{\pi}$ = polarizz. parallela al piano di incidenza

$$\underline{E}' = \underline{\pi}' + \underline{\sigma}'$$

$\underline{\sigma}$ = polarizz. perpendicolare

$$\underline{E}'' = \underline{\pi}'' + \underline{\sigma}''$$

$$\sigma' = -\sigma \frac{\sin(i-r)}{\sin(i+r)}$$

$$\pi' = \pi \frac{\tan(i-r)}{\tan(i+r)}$$

$$\sigma'' = 2\sigma \frac{\sin r \cos i}{\sin(i+r)}$$

$$\pi'' = 2\pi \frac{\sin r \cos i}{\sin(i+r) \cos(i-r)}$$

- spostamento alla riflessione $\begin{cases} n'' > n & \sigma' \text{ sempre} & \pi' \text{ se } i+r > 90^\circ \\ n'' < n & \sigma' \text{ mai} & \pi' \text{ se } i+r < 90^\circ \end{cases}$

- angolo di Brewster: se $i+r = \frac{\pi}{2} \quad \pi' = 0$

l'onda riflessa è polarizzata perpendicolarmente al piano di incidenza

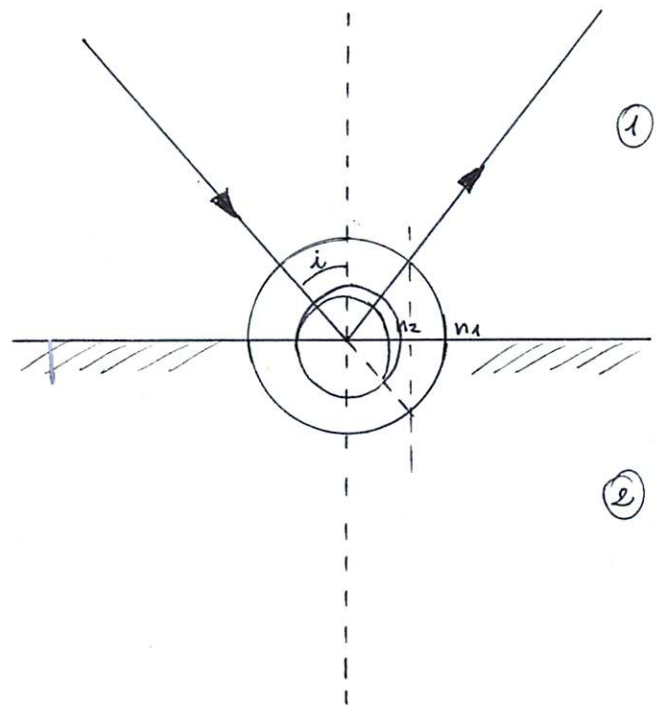
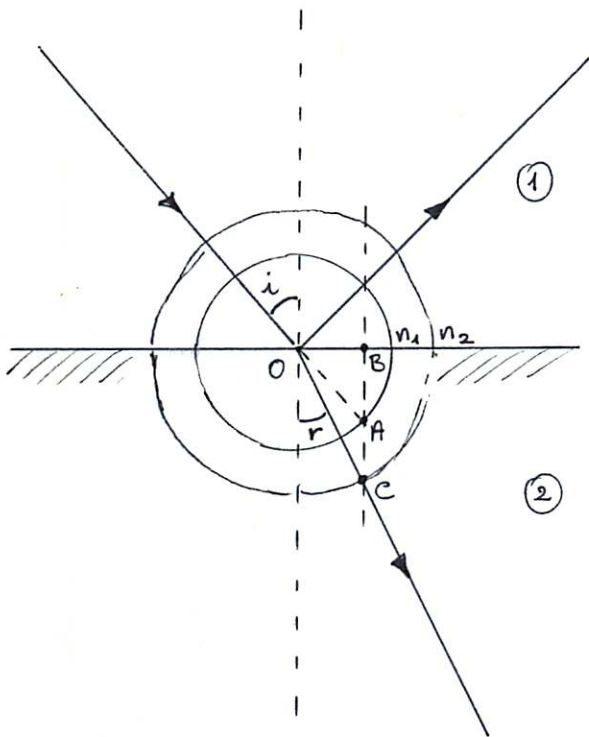
$$\sin i \cdot n = n'' \sin r = n'' \sin\left(\frac{\pi}{2} - i\right) = n'' \cos i$$

$$\tan i = \frac{n''}{n}$$

non si può mai avere esattamente $\sigma' = 0, \pi'' = 0, \sigma'' = 0$

Riflessione e Rifrazione

Alle superficie di separazione dei mezzi 1 e 2 si traccino 2 circonferenze di raggi n_1 ed n_2 . Si trovino le intersezioni delle perpendicolari alle superficie passante per il punto A con i due cerchi. Questi punti danno la direzione dei raggi riflessi e rifratti.



$$OB = n_1 \cos\left(\frac{\pi}{2} - i\right) = n_2 \cos\left(\frac{\pi}{2} - r\right)$$

$$n_1 \sin i = n_2 \sin r$$

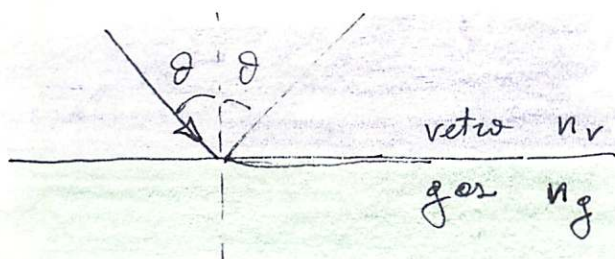
se $n_1 > n_2$ si ha assenza di raggio rifratto (riflessione totale)

$$\text{per } i \geq i^* : n_1 \sin i^* = n_2$$

Sulla superficie piana di separazione tra una lastre di vetro ($n_v = 1.5$) ed un gas di peso molecolare M

incide un raggio luminoso monocromatico con $\theta = 45^\circ$

Se l'indice di rifrazione del gas è $n_g = 1 + \alpha p$ $\alpha = 2 \cdot 10^{-3} \text{ m}^3 \text{ kg}^{-1}$
 dove p è la densità determinare la p del gas
 alle quale il raggio non penetra nel gas alla temperatura di 20°C .



si ha riflessione totale quando $n_v \sin \theta = n_g = 1 + \alpha p$

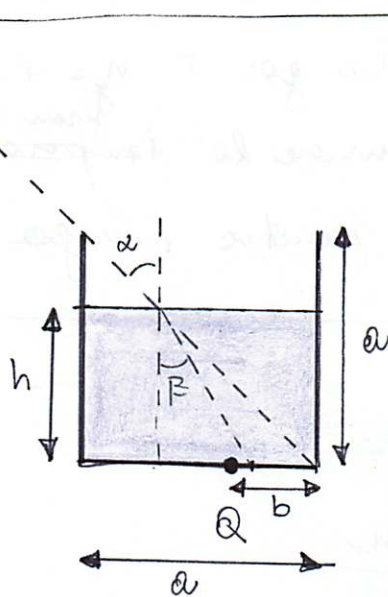
$$p = \frac{M}{V} = \frac{M P}{RT} \quad (\text{1 mole})$$

$$1 + \alpha \frac{M P}{RT} = n_v \sin \theta$$

$$P = (n_v \sin \theta - 1) \frac{RT}{M \alpha}$$

$$P = (1.5 \cdot \sin 45^\circ - 1) \frac{8.314 \cdot 293.15}{80 \cdot 10^{-3} \cdot 2 \cdot 10^{-3}} = 9.24 \cdot 10^5 \text{ Pa} \\ \approx 9.12 \text{ atm}$$

Quale deve essere il livello h dell'acqua nel recipiente in figura affinché dal punto P si possa vedere il punto Q ?



$$\tan \alpha = \frac{a}{a} = 1 \quad \alpha = 45^\circ$$

$$1 \sin 45^\circ = n \sin \beta$$

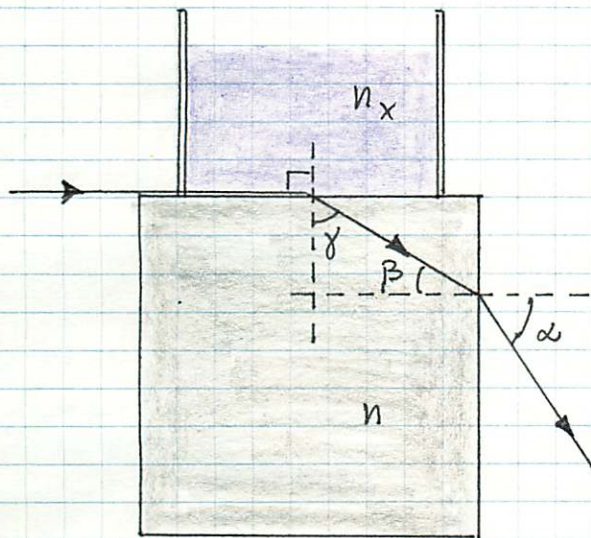
$$\tan \beta = \frac{\frac{1}{\sqrt{2}} n}{\sqrt{1 - \frac{1}{2n^2}}} = \frac{1}{\sqrt{2n^2 - 1}}$$

$$a - [(a - h) \tan \alpha + h \tan \beta] = b$$

$$\cancel{a} - \cancel{a} + h - h \tan \beta = b$$

$$h = \frac{b}{1 - \tan \beta} = \frac{b}{1 - \frac{1}{\sqrt{2n^2 - 1}}}$$

L'indice di rifrazione n_x di un liquido viene misurato con un rifrattometro di Pulfrich. Il liquido è contenuto in una vaschetta trasparente ricoverata sopra un prisma di vetro $n = 1.72$. Determinare n_x se un fascio luminoso cadente all'interfaccia liquido-prisma viene misurato emergere dal prisma ad un angolo $\alpha = 60^\circ$ con la normale.



Applicando la legge di Snell nella rifrazione liquido-vetro e vetro-aria si ha:

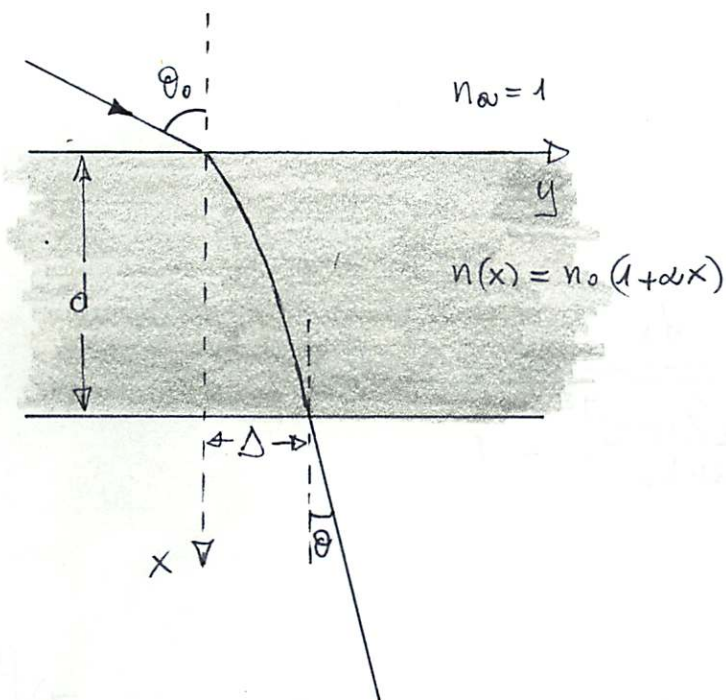
$$\begin{cases} n_x = n \sin \gamma \\ n \sin \beta = \sin \alpha \end{cases}$$

$$\gamma + \beta = \frac{\pi}{2}$$

$$\begin{aligned} n_x &= n \sin \left(\frac{\pi}{2} - \beta \right) = n \cos \beta = n \sqrt{1 - \sin^2 \beta} = \\ &= n \sqrt{1 - \frac{\sin^2 \alpha}{n^2}} = \sqrt{n^2 - \sin^2 \alpha} = 1.48 \end{aligned}$$

Un raggio di luce incide con angolo θ_0 su una lastra a facce piane e parallele. La lastra ha spessore d ed indice di rifrazione $n_0(1+\alpha x)$ essendo x la profondità.

Determinare l'angolo di uscita rispetto alle normali e la distanza Δ



per la legge di Snell

$$n(x) \sin \theta(x) = \text{costante} = n_a \sin \theta_0$$

$$\sin \theta(x) = \frac{\sin \theta_0}{n_0(1+\alpha x)}$$

$$\theta = \theta(d) = \overset{\text{arcsin}}{\left(\frac{\sin \theta_0}{n_0(1+\alpha d)} \right)}$$

Nel sistema di riferimento x, y indicato si ha:

$$\frac{dy(x)}{dx} = \tan \theta(x)$$

$$\frac{dy(x)}{dx} = \sqrt{\frac{\frac{\sin^2 \theta_0}{n_0^2 (1+dx)^2}}{1 - \frac{\sin^2 \theta_0}{n_0^2 (1+dx)^2}}} = \sqrt{\frac{\frac{\sin^2 \theta_0}{n_0^2}}{(1+dx)^2 - \frac{\sin^2 \theta_0}{n_0^2}}}$$

$$= \frac{1}{\sqrt{\left[\frac{n_0(1+dx)}{\sin \theta_0}\right]^2 - 1}}$$

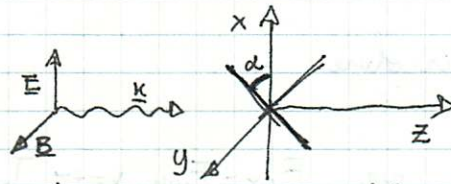
$$\Delta = \int_{x=0}^{x=d} dy(x) = \int_0^d \frac{dx}{\sqrt{\left[\frac{n_0(1+dx)}{\sin \theta_0}\right]^2 - 1}} =$$

$$= \frac{\sin \theta_0}{dn_0} \int_{\frac{n_0}{\sin \theta_0}}^{\frac{n_0(1+d)}{\sin \theta_0}} \frac{dz}{\sqrt{z^2 - 1}} = \frac{\sin \theta_0}{dn_0} \ln(z + \sqrt{z^2 - 1}) \Big|_{\frac{n_0}{\sin \theta_0}}^{\frac{n_0(1+d)}{\sin \theta_0}}$$

$$= \frac{\sin \theta_0}{dn_0} \ln \frac{\frac{n_0(1+d)}{\sin \theta_0} + \sqrt{\left[\frac{n_0(1+d)}{\sin \theta_0}\right]^2 - 1}}{\frac{n_0}{\sin \theta_0} + \sqrt{\left(\frac{n_0}{\sin \theta_0}\right)^2 - 1}}$$

Una lamina polaroid viene usata come analizzatore di polarizzazione di una radiazione incidente isotropicamente con intensità I_0 .
 Si calcoli l'intensità trasmessa nel caso di polarizzazione lineare, circolare, ellittica e radiazione non polarizzata.

1) polarizzazione lineare



sia α l'angolo tra l'asse di trasmissione del polaroid e l'asse di oscillazione del campo elettrico

$$E_x = E_0 \cos \left[2\pi \left(\frac{x}{\lambda} - \frac{t}{T} \right) + \varphi \right]$$

$$= E_0 \cos(\kappa x - \omega t + \varphi)$$

la proiezione di E sull'asse del polaroid (campo trasmesso) \bar{e} :

$$E_p = E_x \cos \alpha \quad \text{per cui}$$

$$I_p = I_0 \cos^2 \alpha \quad (\text{legge di Malus})$$

2) polarizzazione ellittica $D: \gamma \in]-\pi, 0[$ $S: \gamma \in]0, \pi[$

$$E_x = E_{0x} \cos(\kappa x - \omega t + \varphi)$$

$$E_y =$$

$$E_{0y} \cos(\kappa x - \omega t + \varphi + \gamma)$$

$$E_p = E_x \cos \alpha + E_y \sin \alpha$$

$$I_p = \langle \bar{E}_p \times \bar{H}_p \rangle = \sqrt{\frac{\epsilon_0}{\mu_0}} \langle E_p^2 \rangle = \sqrt{\frac{\epsilon_0}{\mu_0}} \langle E_x^2 \cos^2 \alpha + E_y^2 \sin^2 \alpha + 2E_x E_y \sin \alpha \cos \alpha \rangle =$$

$$= \sqrt{\frac{\epsilon_0}{\mu_0}} \left(\frac{1}{2} E_{0x}^2 \cos^2 \alpha + \frac{1}{2} E_{0y}^2 \sin^2 \alpha + E_{0x} E_{0y} \sin \alpha \cos \alpha \cos \gamma \right)$$

$$I_0 = \sqrt{\frac{\epsilon_0}{\mu_0}} \langle E_x^2 + E_y^2 \rangle = \sqrt{\frac{\epsilon_0}{\mu_0}} \frac{1}{2} (E_{0x}^2 + E_{0y}^2)$$

$$I_p = I_0 \frac{E_{0x}^2 \cos^2 \alpha + E_{0y}^2 \sin^2 \alpha + 2 E_{0x} E_{0y} \sin \alpha \cos \alpha \cos \gamma}{E_{0x}^2 + E_{0y}^2}$$

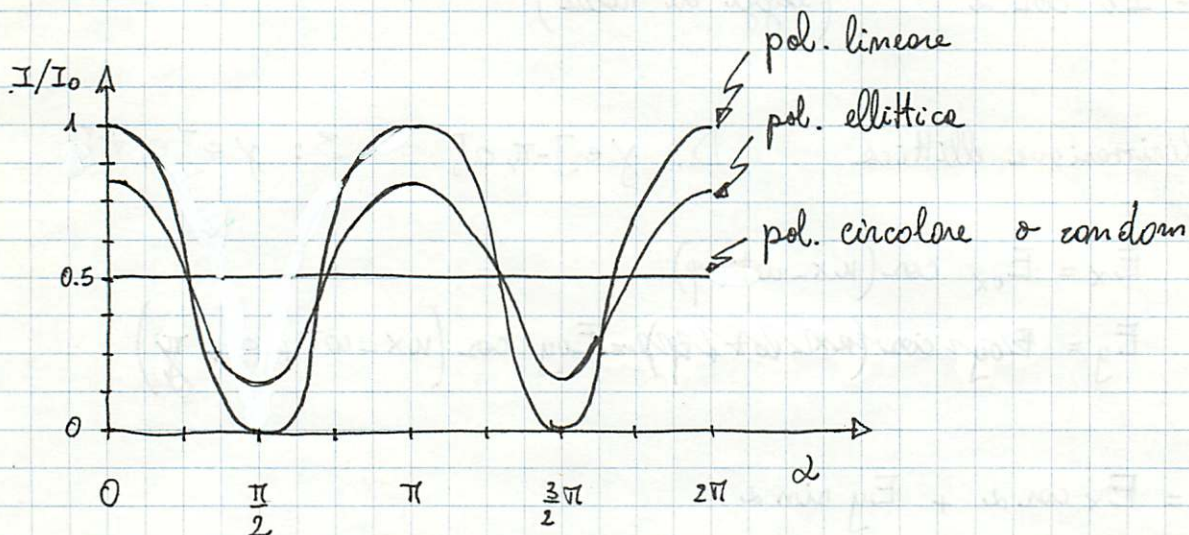
3) polarizzazione circolare

dal caso 2) per $E_{0x} = E_{0y}$, $\gamma = \pm \frac{\pi}{2}$ $I_p = I_0 \frac{1}{2}$

4) non polarizzata

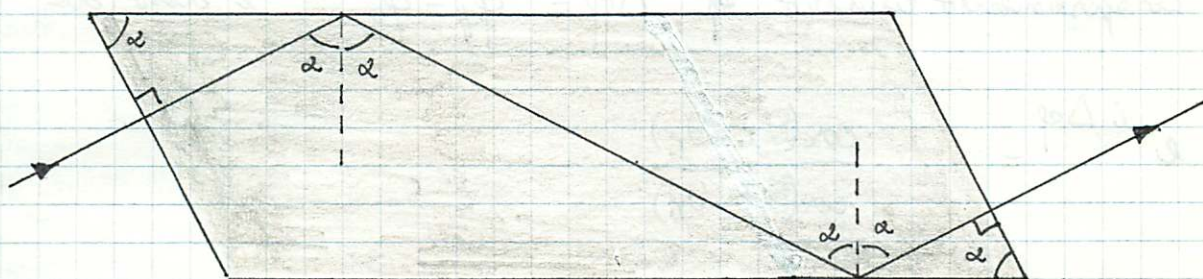
dal caso 1) per α variabile casualmente in $[0, 2\pi]$

$$I_p = \frac{1}{2\pi} \int_0^{2\pi} I_0 \cos^2 \alpha \, d\alpha = \frac{1}{2} I_0$$



(1)

Il rombo di Fresnel è un prisma di vetro ($n=1.51$) con angoli acuti $\alpha = 54,6^\circ$. Dimostrare che in caso di incidenza normale alla superficie del prisma la radiazione riemerge con la componente normale al piano di incidenza sferzata di $\frac{\pi}{2}$ rispetto a quella parallela. Determinare lo stato di polarizzazione dell'uscito per luce incidente polarizzata linearmente, ellitticamente e circolarmente.



Per la geometria del problema il raggio luminoso all'ingresso e all'uscito del vetro subisce due riflessioni interne con angolo di incidenza α .

Poiché α è maggiore dell'angolo limite

$$n \sin \theta_c = 1 \quad \theta_c = \arcsin\left(\frac{1}{n}\right) = 41,47^\circ$$

non viene persa radiazione per riflessione nel vuoto.

In ciascuna riflessione interna lo sfasamento relativo tra le componenti normale al piano di incidenza e parallela può essere calcolato con le eq. di Fresnel.:

$$\frac{E_{oi}'(\parallel)}{E_{oi}(\parallel)} = \frac{\tan(\theta_i - \theta_r)}{\tan(\theta_i + \theta_r)} = \frac{\sin(\theta_i - \theta_r)}{\sin(\theta_i + \theta_r)} \cdot \frac{\cos(\theta_i + \theta_r)}{\cos(\theta_i - \theta_r)} =$$

$$= - \frac{E_{oi}'(\perp)}{E_{oi}(\perp)} \frac{\cos(\theta_i + \theta_r)}{\cos(\theta_i - \theta_r)}$$

per $\theta_i > \theta_{lim}$ i rapporti $\frac{E_{oi}'(\parallel)}{E_{oi}(\parallel)} = e^{i\varphi_{\parallel}}$ $\frac{E_{oi}'(\perp)}{E_{oi}(\perp)} = e^{i\varphi_{\perp}}$
 sono puri fattori di fase

Lo sfasamento relativo $\Delta\varphi = \varphi_{\parallel} - \varphi_{\perp}$ è dato da:

$$e^{i\Delta\varphi} = - \frac{\cos(\theta_i + \theta_r)}{\cos(\theta_i - \theta_r)}$$

Nel caso considerato $\theta_i = \alpha$ posto $x = e^{i\theta_r}$ la legge di Snell da:

$$n \sin \alpha = \frac{x - x^{-1}}{2i} \quad x^2 - 2in \sin \alpha x - 1 = 0$$

$$x = in \sin \alpha \pm \sqrt{-n^2 \sin^2 \alpha + 1} = i \left[n \sin \alpha \pm \sqrt{n^2 \sin^2 \alpha - 1} \right] \equiv iy$$

$$e^{i\Delta\varphi} = - \frac{\cos(\alpha + \theta_r)}{\cos(\alpha - \theta_r)} = - \frac{\cos \alpha \left(iy - \frac{i}{y} \right) - 2n \sin^2 \alpha}{\cos \alpha \left(iy - \frac{i}{y} \right) + 2n \sin^2 \alpha} =$$

$$= \frac{2n \sin^2 \alpha - i \left(y - \frac{1}{y} \right) \cos \alpha}{2n \sin^2 \alpha + i \left(y - \frac{1}{y} \right) \cos \alpha} =$$

$$= \frac{\left[2n \sin^2 \alpha - i \left(y - \frac{1}{y} \right) \cos \alpha \right]^2}{\left(2n \sin^2 \alpha \right)^2 + \left(y - \frac{1}{y} \right)^2 \cos^2 \alpha}$$

$$\tan \Delta\varphi = -\frac{2 \sin^2 \alpha \left(\frac{y-1}{y}\right) \cos \alpha}{(\sin^2 \alpha)^2 - \left(\frac{y-1}{y}\right)^2 \cos^2 \alpha} = -1$$

$$\Delta\varphi = -45^\circ$$

Dopo 2 riflessioni interne si ha $\varphi_{\perp} - \varphi_{\parallel} = \frac{\pi}{2}$

a) Se l'onda incidente è polarizzata linearmente si ha:

$$\begin{cases} E_{in}(\perp) = E_0 \cos \beta \cos(\underline{k} \cdot \underline{r} - \omega t) \\ E_{in}(\parallel) = \pm E_0 \sin \beta \cos(\underline{k} \cdot \underline{r} - \omega t) \end{cases}$$

$$\begin{cases} E_{out}(\perp) = E_0 \cos \beta \cos(\underline{k} \cdot \underline{r} - \omega t) \\ E_{out}(\parallel) = \pm E_0 \sin \beta \cos\left(\underline{k} \cdot \underline{r} - \omega t \mp \frac{\pi}{2}\right) = E_0 \sin \beta \cos\left(\underline{k} \cdot \underline{r} - \omega t \mp \frac{\pi}{2}\right) \end{cases}$$

all'uscita l'onda è polarizzata ^{circolarmente} ~~ellitticamente~~ destra $(-\frac{\pi}{2})$ o sinistra $(+\frac{\pi}{2})$ ad eccezione dei casi $\cos \beta = 0, \frac{\pi}{2}, \pi$ in cui una delle due componenti \perp o \parallel si annulla.

b) Se l'onda incidente è polarizzata ellitticamente destra o sinistra

$$\begin{cases} E_{in}(\perp) = E_0 \cos \beta \cos(\underline{k} \cdot \underline{r} - \omega t) \\ E_{in}(\parallel) = E_0 \sin \beta \cos(\underline{k} \cdot \underline{r} - \omega t + \gamma) \end{cases} \quad \begin{array}{l} D: -\pi < \gamma < 0 \\ S: 0 < \gamma < \pi \end{array}$$

$$\begin{cases} E_{out}(\perp) = E_0 \cos \beta \cos(\underline{k} \cdot \underline{r} - \omega t) \\ E_{out}(\parallel) = E_0 \sin \beta \cos(\underline{k} \cdot \underline{r} - \omega t + \gamma - \frac{\pi}{2}) \end{cases}$$

all'uscita l'onda è ancora polarizzata ellitticamente ma può cambiare verso (se $|\gamma| > \frac{\pi}{2}$).

c) se l'onda incidente è polarizzata circolarmente destra o sinistra

$$\begin{cases} E_{\text{in}}(\perp) = E_0 \cos(\underline{k} \cdot \underline{r} - \omega t) \\ E_{\text{in}}(\parallel) = E_0 \cos(\underline{k} \cdot \underline{r} - \omega t \mp \frac{\pi}{2}) \end{cases}$$

$$\begin{cases} E_{\text{out}}(\perp) = E_0 \cos(\underline{k} \cdot \underline{r} - \omega t) \\ E_{\text{out}}(\parallel) = \mp E_0 \cos(\underline{k} \cdot \underline{r} - \omega t) \end{cases}$$

l'onda uscente è polarizzata linearmente

Nei casi b) e c) il rinvio di Fresnel si comporta come una lamina quarto d'onda (anche nel caso d) con $S \leftrightarrow \Delta$) però il suo funzionamento non dipende da λ !

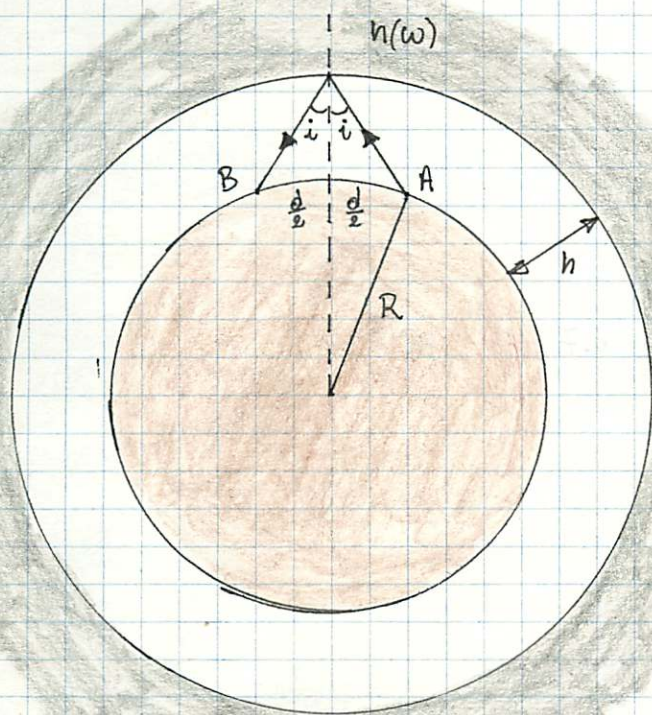
Un semplice modello per la ionosfera è un mezzo descritto dalle costante dielettrici relative $\epsilon_r(\omega) = 1 - \frac{\omega_p^2}{\omega^2}$

($\omega_p^2 = \frac{\delta e^2}{\epsilon_0 m}$ dove e ed m sono la carica e la massa di elettrone e δ la densità di elettroni), che avvolge la terra a partire

da una quota $h \approx 300$ km. Si spieghi in base a quale fenomeno la trasmissione di segnali radio di frequenza ω tra due punti della terra via una riflessione all'interfaccia tra atmosfera e ionosfera viene favorita se $\omega > \omega_p$.

Si calcoli l'indice di rifrazione della ionosfera ed la lunghezza d'onda $\lambda = 21$ m secondo due stazioni distanti più di $d = 1000$ km possono essere collegate mediante un segnale riflesso dalla ionosfera.

Si calcoli infine la densità di elettroni nella ionosfera in queste condizioni. Si consideri $\frac{d}{2R} \ll 1$ $R =$ raggio della terra



per $\omega > \omega_p$ $n(\omega) < 1$
 e si può avere il fenomeno della riflessione totale all'interfaccia atmosfera ($n=1$) ionosfera ($n < 1$).
 Le minime perdite di energia del segnale e.m. (riflettore mitica) aiuta fortemente la trasmissione tra due stazioni A B

la riflessione totale avviene se l'angolo di incidenza $i \geq i^*(\omega)$
dove $\sin i^* = n(\omega)$

Poiché $\sin i \approx \frac{d/2}{\sqrt{(d/2)^2 + h^2}}$ (per $\frac{d}{2R} \ll 1$)

cioè i cresce al crescere di d la distanza minima di visione del segnale corrisponde all'angolo limite i^* .

L'indice di rifrazione della ionosfera nelle condizioni considerate è:

$$n = \frac{d/2}{\sqrt{(d/2)^2 + h^2}} = 0.86$$

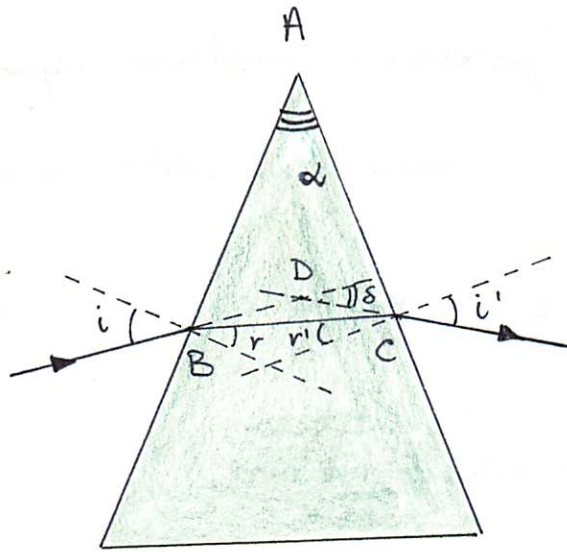
Dalla relazione ($\mu_r \approx 1$) $n^2 = \epsilon_r$ si ha

$$n^2 = 1 - \frac{\delta e^2}{\epsilon_0 m} \left(\frac{\lambda}{2\pi c} \right)^2$$

$$\delta = \left(\frac{2\pi c}{\lambda} \right)^2 \frac{\epsilon_0 m}{e^2} (1 - n^2) =$$

$$= \left(\frac{2\pi c}{\lambda} \right)^2 \frac{\epsilon_0 m}{e^2} \frac{h^2}{(d/2)^2 + h^2} = 6.7 \cdot 10^{11} \text{ m}^{-3}$$

Prisma



$$\begin{cases} \sin i = n \sin r \\ \sin i' = n \sin r' \end{cases}$$

angolo di deviazione del raggio = $S = \widehat{DBE} + \widehat{DCB} = (i - r) + (i' - r')$

dal triangolo ABC : $\alpha + \left(\frac{\pi}{2} - r\right) + \left(\frac{\pi}{2} - r'\right) = \pi \Rightarrow \alpha = r + r'$

$$S = i + i' - \alpha \qquad \frac{dS}{di} = 1 + \frac{di'}{di}$$

differenziando le due relazioni di Snell

$$\cos i \, di = n \cos r \, dr$$

$$\cos i' \, di' = n \cos r' \, dr'$$

e notando che $dr + dr' = 0$ in quanto $r + r' = \alpha = \text{costante}$

$$\frac{di'}{di} = \frac{\cos i}{\cos i'} \frac{n \cos r'}{n \cos r} \frac{dr'}{dr} = - \frac{\cos i}{\cos i'} \frac{\cos r'}{\cos r}$$

$$\frac{dS(i)}{di} = 1 - \frac{\cos r'}{\cos r} \cdot \frac{\cos i}{\cos i'}$$

per $i=i'$ ed $r=r'$ (percorso simmetrico rispetto alla bisettrice del prisma) $S(i)$ assume il valore minimo

$$\delta_m = 2i - \alpha \quad \text{e} \quad r = \frac{\alpha}{2}$$

$$i = \arcsin\left(n \sin \frac{\alpha}{2}\right)$$

$$\delta_m = 2 \arcsin\left(n \sin \frac{\alpha}{2}\right) - \alpha$$

invertendo si può ricavare n noti α e δ_m

$$n = \frac{\sin\left(\frac{\delta_m + \alpha}{2}\right)}{\sin\left(\frac{\alpha}{2}\right)}$$

Dispersione del prisma $D \equiv \frac{dS}{d\lambda} = \frac{dS}{dn} \cdot \frac{dn}{d\lambda} = \frac{di'}{dn} \cdot \frac{dn}{d\lambda}$

$$0 = \sin r + n \cos r \frac{dr}{dn} \quad \cos i' \frac{di'}{dn} = \sin r' + n \cos r' \frac{dr'}{dn} \quad \frac{dr'}{dn} + \frac{dr}{dn} = 0$$

$$\frac{di'}{dn} = \frac{\sin \alpha}{\cos i' \cos r} = \frac{2 \sin \frac{\alpha}{2}}{\cos\left(\frac{\delta_m + \alpha}{2}\right)} \quad \text{in minima deviazione}$$

$$n \approx A + \frac{B}{\lambda^2} \quad (\text{formule di Cauchy})$$

$$D = \frac{2 \sin \frac{\alpha}{2}}{\cos\left(\frac{\delta_m + \alpha}{2}\right)} \left(-\frac{2B}{\lambda^3}\right)$$

giustificazione della formula di Cauchy

$$n(\lambda) = A + \frac{B}{\lambda^2}$$

$$n^2 = 1 + \frac{Ne^2}{\epsilon_0 m (\omega_0^2 - \omega^2)}$$

$$n = \left[1 + \frac{Ne^2}{\epsilon_0 m (\omega_0^2 - \omega^2)} \right]^{\frac{1}{2}} = 1 + \frac{Ne^2}{2\epsilon_0 m \omega_0^2} \left(1 - \frac{\omega^2}{\omega_0^2} \right)^{-1}$$

$$\approx 1 + \frac{Ne^2}{2\epsilon_0 m \omega_0^2} \left(1 + \frac{\omega^2}{\omega_0^2} \right) \quad \omega \ll \omega_0$$

$$\omega = \frac{2\pi c}{\lambda}$$

$$n(\lambda) = A + \frac{B}{\lambda^2}$$

$$A = 1 + \frac{Ne^2}{2\epsilon_0 m \omega_0^2} \quad \sim 2$$

$$B = \frac{2\pi^2 c^2 Ne^2}{\epsilon_0 m \omega_0^4} = \frac{4\pi^2 c^2}{\omega_0^2} (A - 1)$$

$$= \lambda_0^2 (A - 1) \sim 10^6 \text{ \AA}^2$$

$$\begin{aligned} \frac{di'}{dn} &= \frac{\sin n' + n \cos r' \frac{\sin r}{n \cos r}}{\cos i'} = \frac{\sin r' \cos r + \sin r \cos r'}{\cos i' \cos r} \\ &= \frac{\sin(r+r')}{\cos i' \cos r} = \frac{\sin \alpha}{\cos\left(\frac{\alpha + \delta_m}{2}\right) \cos\left(\frac{\alpha}{2}\right)} \end{aligned}$$

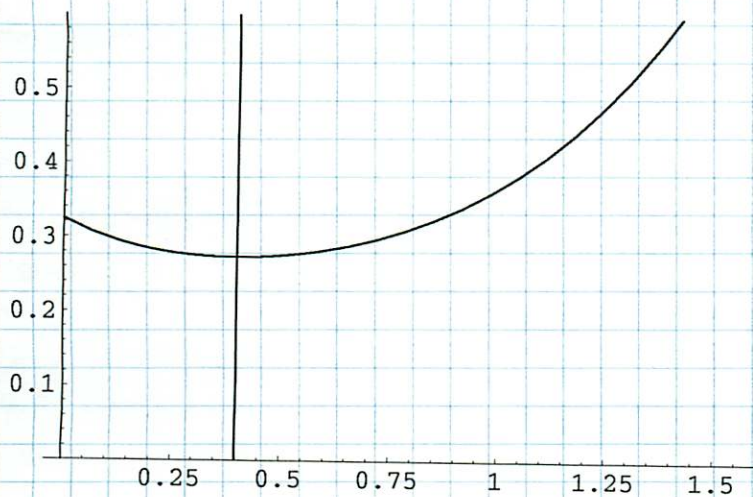
$$\frac{d(i^1)}{dn} = \frac{\sin r' + n \cos r' \frac{dn'}{dn}}{\cos i^1} = \frac{\sin r' + n \cos r' \frac{\sin r}{n \cos r}}{\cos i^1} =$$

$$= \frac{\sin r' \cos r + \cos r' \sin r}{\cos i^1 \cos r} = \frac{\sin (r+r')}{\cos i^1 \cos r} = \frac{\sin \alpha}{\cos i^1 \cos r}$$

```
In[106]:= n = 1.5  
alpha = Pi / 6  
r1[i1_] := ArcSin[Sin[i1] / n]  
r2[i1_] := alpha - r1[i1]  
i2[i1_] := ArcSin[Sin[r2[i1]] * n]  
delta[i1_] := i1 + i2[i1] - alpha  
  
y[i1_] := (i1 - N[ArcSin[Sin[alpha / 2] * n]]) / 0.00001  
Plot[{delta[i1], y[i1]}, {i1, 0, Pi / 2}, PlotRange -> {0, 0.6}]
```

Out[106]= 1.5

Out[107]= $\frac{\pi}{6}$



Out[113]= - Graphics -