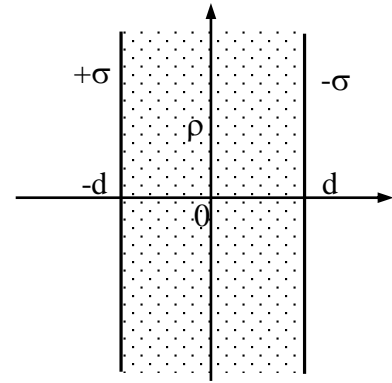


Esercizio n.1 [11 punti]

Nello spazio sono presenti due piani infiniti di spessore trascurabile, paralleli fra loro, a distanza  $2d$ , carichi con densità di carica uniforme  $+\sigma$  e  $-\sigma$  (vedi figura). Tutto lo spazio fra i due piani è riempito da una distribuzione di carica di volume costante ed uniforme  $\rho > 0$ .



Si scrivano le espressioni del campo elettrico e del potenziale elettrostatico nelle tre regioni in cui è diviso lo spazio, ponendo lo zero del potenziale nell'origine. Si faccia anche un disegno di massima dell'andamento di  $E(x)$  e di  $V(x)$ .

Si supponga che il "supporto" per la densità di carica  $\rho$  abbia costante dielettrica praticamente uguale a quella del vuoto.

Nei calcoli si ponga  $|\sigma| = \rho d$ .

Soluzione

Consideriamo le tre zone: la 1 con  $x \leq -d$ ; la 2 con  $-d \leq x \leq d$ ; la 3 con  $d \leq x$ :

Zona 2)  $E_2(+\sigma, -\sigma) = \sigma/\epsilon_0$ ;  $E_2(\rho)$  la posso calcolare applicando il teorema di Gauss ad una superficie chiusa circolare con l'asse lungo la  $x$ , centrata in  $x=0$ , di lunghezza  $2x$ , e superficie laterale  $S$ :

$$\oint(E) = 2 E(x) \cdot S = \frac{Q(\text{interna})}{\epsilon_0} = \frac{\rho \cdot S \cdot 2x}{\epsilon_0} \quad \text{da cui: } E_2(\rho) = \frac{\rho \cdot x}{\epsilon_0}$$

Il campo  $E_2$  totale sarà quindi  $E_2 = E_2(\pm\sigma) + E_2(\rho) = \frac{\sigma}{\epsilon_0} + \frac{\rho \cdot x}{\epsilon_0} = \frac{\rho d}{\epsilon_0} + \frac{\rho \cdot x}{\epsilon_0} = \frac{\rho}{\epsilon_0} (d + x)$

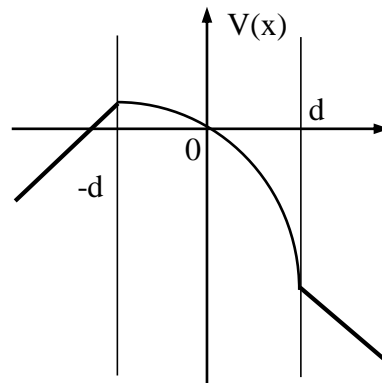
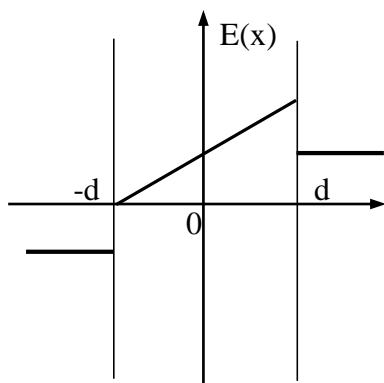
Il potenziale sarà  $V_2(x) = -\int_c^x E_x dx = -\frac{\rho}{\epsilon_0} \left( d \cdot x + \frac{x^2}{2} \right) + c$ ; imponendo che  $V(0)=0$  si ha  $c=0$ .

Quindi  $V_2(x) = \frac{\rho d}{\epsilon_0} \left( -x - \frac{x^2}{2d} \right)$ , è una parabola con la concavità verso il basso, e asse lungo  $x=-d$ .

Zona 3)  $E_3(+\sigma, -\sigma) = 0$ ;  $E_3(\rho)$ : il calcolo è analogo a quello fatto nella zona 2), ma la carica ora è limitata alla zona  $-d, d$ ; si ha quindi  $E_3(\rho) = E_3 = \frac{\rho \cdot d}{\epsilon_0}$ ; il potenziale sarà:  $V_3(x) = -\int_{c1}^x E_x dx = -\frac{\rho d x}{\epsilon_0} + c1$  imponendo la continuità con la zona 2 nel punto  $x=d$  avrò:  $V_3(d) = V_2(d)$ , cioè  $-\frac{\rho d^2}{\epsilon_0} + c1 = -\frac{\rho}{\epsilon_0} \left( d^2 + \frac{d^2}{2} \right)$  da cui ho  $c1 = -\frac{\rho \cdot d^2}{2\epsilon_0}$  e  $V_3(x) = \frac{\rho d}{\epsilon_0} \left( -\frac{d}{2} - x \right)$

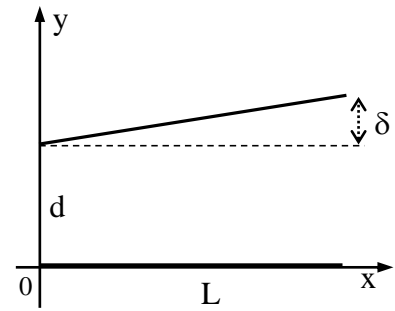
Zona 1)  $E_1(+\sigma, -\sigma) = 0$ ;  $E_1(\rho)$ : il calcolo è analogo a quello fatto nella zona 2), ma la carica ora è limitata alla zona  $-d, d$ ; si ha quindi  $E_1(\rho) = E_1 = -\frac{\rho \cdot d}{\epsilon_0}$ ; il potenziale sarà:  $V_1(x) = -\int_{c2}^x E_x dx = \frac{\rho d x}{\epsilon_0} + c2$  imponendo la continuità con la zona 2 nel punto  $x=-d$  avrò:  $V_1(-d) = V_2(-d)$ , cioè  $-\frac{\rho d^2}{\epsilon_0} + c2 = -\frac{\rho d}{\epsilon_0} \left( \frac{d}{2} \right)$  da cui ho  $c2 = -\frac{3\rho \cdot d^2}{2\epsilon_0}$  e  $V_1(x) = \frac{\rho d}{\epsilon_0} \left( \frac{3d}{2} + x \right)$

I grafici del campo elettrico e del potenziale sono:



Esercizio n.2 [10 punti]

Nello spazio vuoto si ha un condensatore piano formato da due armature quadrate di lato L, leggermente inclinate una rispetto all'altra, in modo tale che  $\delta \ll d$  (vedi figura). Calcolare il valore della capacità del condensatore formato dalle due armature in funzione della capacità  $C_0$  del condensatore che si ha quando  $\delta=0$ . Calcolare inoltre il lavoro necessario per portare l'armatura superiore parallela a quella inferiore, cioè con  $\delta=0$ , nell'ipotesi che il condensatore sia stato caricato con una carica Q costante. Si supponga che le linee del campo E all'interno del condensatore siano dirette sempre lungo l'asse y.  
Nota: il disegno non è in scala.



Dati:  $\delta/d = 0,1$  ;  $C_0 = 0,5 \mu F$  ;  $Q = 10^{-4} C$ .

Relazioni utili:  $\ln(1 + x) \cong x - \frac{x^2}{2}$  ;  $\frac{1}{1+x} \cong 1 - x$

Soluzione

Il condensatore si può calcolare come la somma dei condensatori infinitesimi dC di lati (L, dx) e distanza d+h(x)

Si assume  $\sin \alpha \cong \tan \alpha \cong \delta/L$

$\delta/L$  dove  $\alpha$  è l'angolo che il lato inclinato forma con l'asse delle x.

$$dC = \epsilon_0 \frac{L dx}{d+x \tan \alpha} \cong \epsilon_0 \frac{L dx}{d+x \frac{\delta}{L}} \cong \epsilon_0 \frac{L dx}{d+x\delta/L}$$

integrando fra  $x=0$  e  $x=L$  si ha  $C = \int dC = \int_0^L \epsilon_0 \frac{L dx}{d+x\delta/L} = \frac{\epsilon_0 L^2}{\delta} \ln(1 + \frac{\delta}{d}) \cong$   
 $\frac{\epsilon_0 L^2}{\delta} (\frac{\delta}{d} - \frac{\delta^2}{2d^2}) = \frac{\epsilon_0 L^2}{d} (1 - \frac{\delta}{2d}) = C_0 (1 - \frac{\delta}{2d}) = 0,47 \mu F$

Metodi alternativi: Si può considerare la parte inclinata di spessore  $\delta(x)$  utilizzando il suo valore medio (si può fare perché il tratto inclinato è rettilineo, o se si vuole, l'equazione di  $\delta(x)$  è una retta, in questo modo si ha che il valor medio è  $\delta/2$ , e la capacità corrispondente:  $C = \frac{\epsilon_0 S}{d+\delta/2} = \frac{\epsilon_0 S}{d} \frac{1}{1+\delta/2d} \cong C_0 (1 - \delta/2d)$

Oppure anche come capacità serie (attenzione, non parallelo) della capacità  $C_0$  (d) con la capacità dovuta alla parte inclinata, calcolata sempre per un valor medio  $\delta/2$

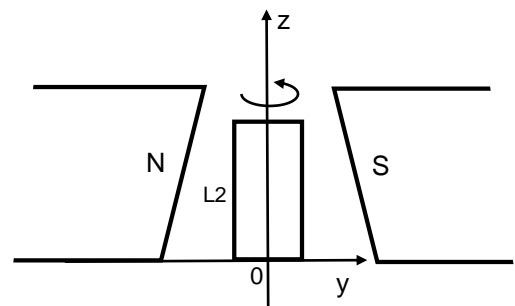
Il lavoro fatto sarà uguale alla differenza fra l'energia finale e l'energia iniziale:

$$L = U_f - U_i = \frac{1}{2} \frac{Q_0^2}{C_0} - \frac{1}{2} \frac{Q_0^2}{C} = -U_f \frac{\delta}{2d} = -0,5 mJ$$

, il lavoro è negativo, quindi dall'esterno viene assorbita energia.

Esercizio n.3 [9 punti]

Si consideri un magnete sagomato in modo da generare un campo B diretto secondo l'asse y, e variabile lungo l'asse z secondo la legge  $B_y(z) = az$ . Fra le espansioni del magnete è presente una spira conduttrice rettangolare, di lati L1 e L2 e resistenza R che può ruotare intorno all'asse z (vedi figura). Calcolare la potenza media necessaria per far ruotare la spira di moto circolare uniforme con una velocità angolare  $\omega$ .



Dati:  $a = 10 T/m$  ;  $L1 = 2 cm$  ;  $L2 = 5 cm$  ;  $R = 2,5 \Omega$  ;  $\omega = 10^3 rad/s$

**Soluzione**

Nella spira circolerà una corrente  $i$  dovuta alla f.e.m. indotta dalla rotazione della spira nel campo B.

$f(t) = - \frac{d\phi(B)}{dt}$  a causa della rotazione della spira la sua normale ruota con legge del tipo  $\cos \omega t$ , quindi:

$$\phi(t) = \phi_{max} \cos \omega t$$

Il flusso non è costante sulla superficie, quindi va calcolato integrando un flusso elementare:

$$\phi_{max} = \int_S d\phi = \int_S B(z)L_1 dz = \int_0^{L_2} az L_1 dz = \frac{1}{2} aL_1L_2^2$$

quindi  $f(t) = \omega \phi_{max} \sin \omega t$  ;  $i(t) = \frac{f(t)}{R} = \frac{\omega \phi_{max} \sin \omega t}{R}$

$$e: P(t) = i^2(t)R = \frac{(\omega \phi_{max} \sin \omega t)^2}{R} \quad ; \quad \langle P \rangle = \frac{P(t)_{max}}{2} = \frac{(\omega \phi_{max})^2}{2R} = \frac{(\omega aL_1L_2^2)^2}{8R} = 12,5 \text{ mW}$$