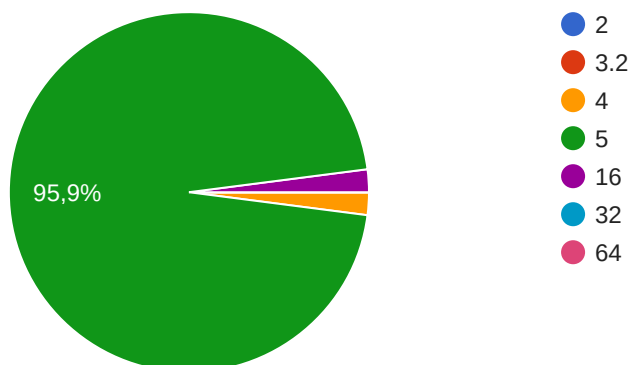


Test di ingresso 1

49 risposte


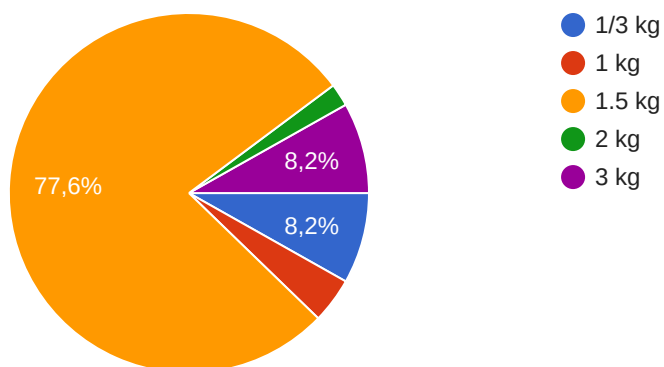
Quanto vale il logaritmo in base due di 32?

49 risposte



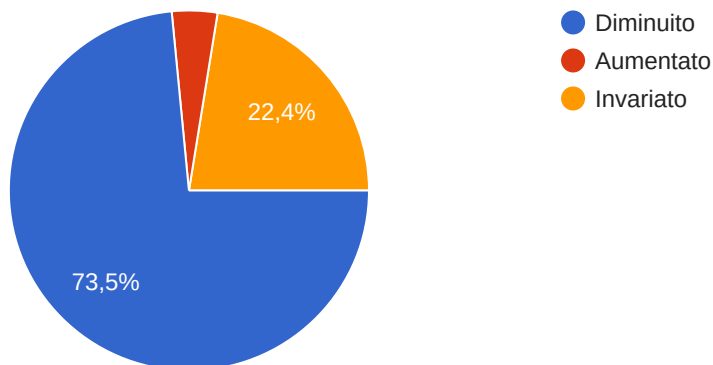
Un mattone pesa 1 kg più un terzo di mattone. Quanto pesa il mattone?

49 risposte




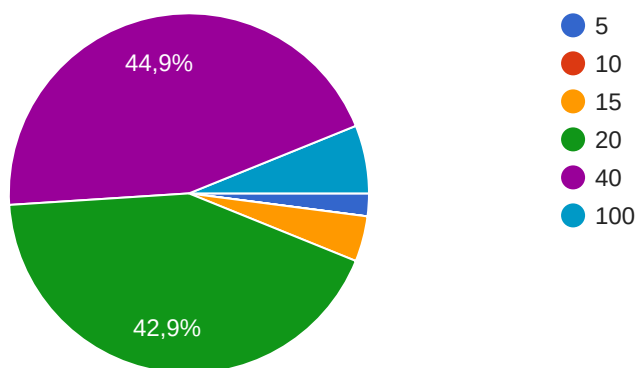
In un certo paese nel primo semestre il PIL diminuisce del 15%, mentre nel secondo aumenta del 15% (rispetto al valore alla fine del primo semestre). Dire se, rispetto all'inizio dell'anno il PIL è aumentato, diminuito o restato invariato.

49 risposte



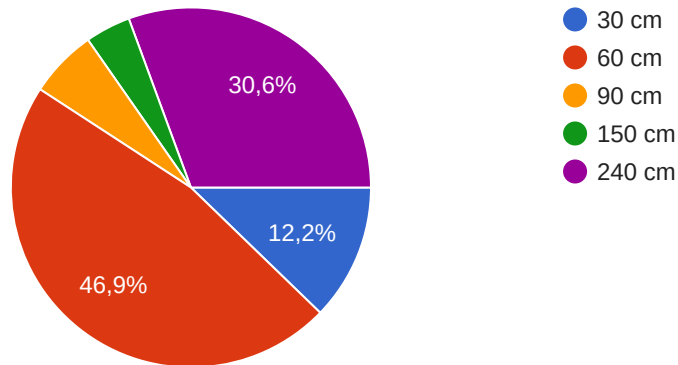
Si considerino di vari recipienti cilindrici dei quali il recipiente A contiene 10 litri di acqua. Il recipiente B ha la stessa altezza di A, ma un diametro doppio. Quanti litri di acqua contiene tale recipiente?

49 risposte



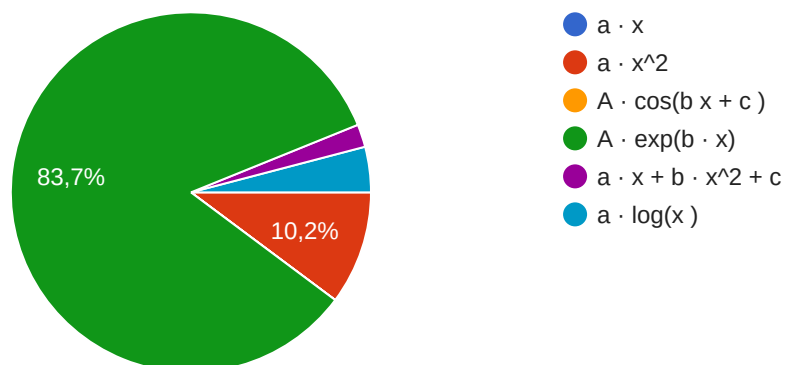
Un oggetto di forma cubica ha il lato di 30 cm. Un altro oggetto, avente stessa forma e stessa densità, pesa 8 volte più del primo. Quanto vale la lunghezza del suo lato?

49 risposte



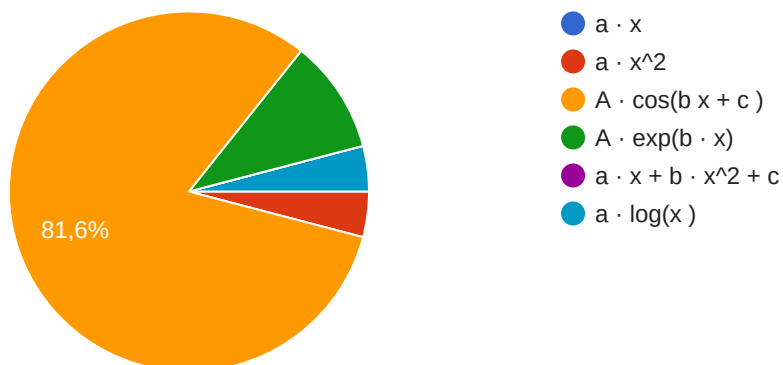
Quale funzione di x ha la proprietà che la sua derivata è proporzionale alla funzione stessa?

49 risposte



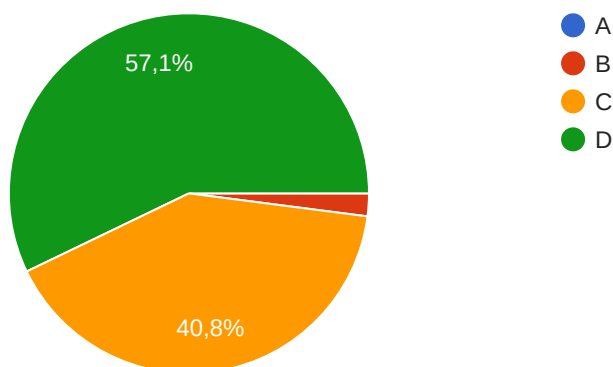
Quale funzione ha la proprietà che la sua derivata seconda è proporzionale alla funzione stessa cambiata di segno?

49 risposte



Con riferimento alla figura mostrata, dire quale curva mostra un andamento esponenziale

49 risposte



Questi contenuti non sono creati né avallati da Google. [Segnala una violazione](#) - [Termini di servizio](#) - [Norme sulla privacy](#).

Google Moduli

